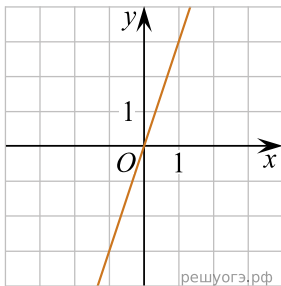


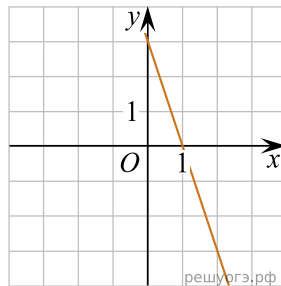
Установите соответствие между графиками функций и формулами, которые их задают.

**ГРАФИКИ ФУНКЦИЙ**

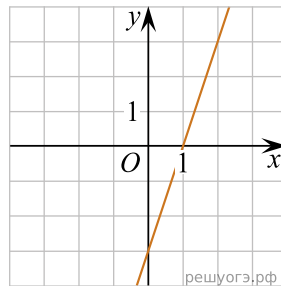
А)



Б)



В)



**ФОРМУЛЫ**

- 1)  $y = -3x + 3$
- 2)  $y = 3x$
- 3)  $y = 3x - 3$

В таблице под каждой буквой укажите соответствующий номер.