

Установите соответствие между функциями и их графиками.

ФУНКЦИИ

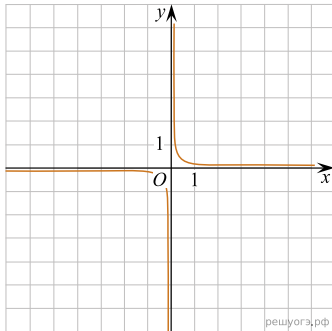
А) $y = -3x^2 - 9x - 1$

Б) $y = \frac{4}{5}x + 1$

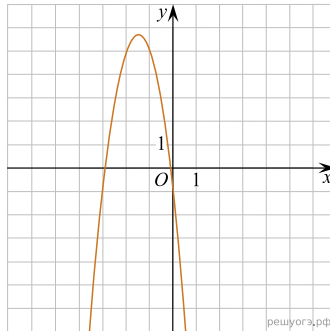
В) $y = \frac{1}{10x}$

ГРАФИКИ

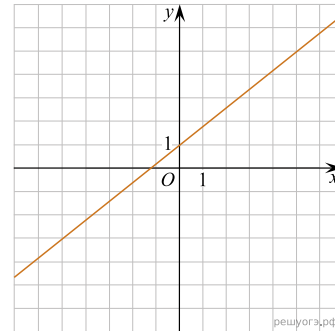
1)



2)



3)



В таблице под каждой буквой укажите соответствующий номер.

А	Б	В