

Установите соответствие между функциями и их графиками.

**ФУНКЦИИ**

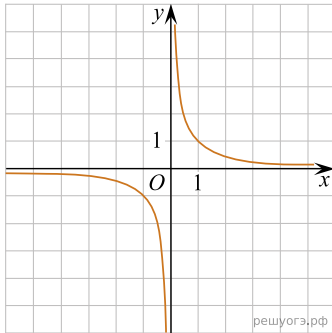
А)  $y = \frac{1}{x}$

Б)  $y = x + 1$

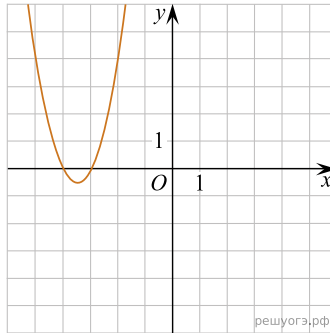
В)  $y = 2x^2 + 14x + 24$

**ГРАФИКИ**

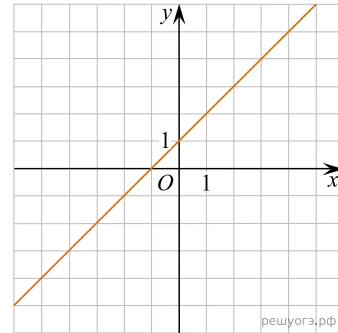
1)



2)



3)



В таблице под каждой буквой укажите соответствующий номер.