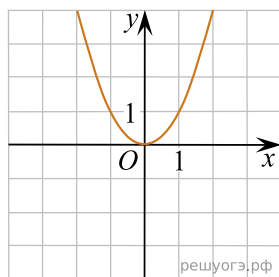
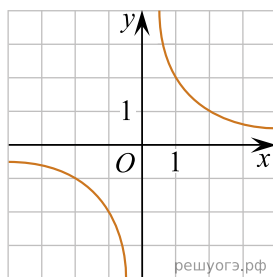


Установите соответствие между графиками функций и формулами, которые их задают.

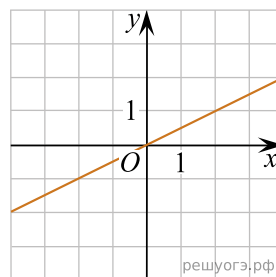
А)



Б)



В)



1)  $y = x^2$

2)  $y = \frac{x}{2}$

3)  $y = \frac{2}{x}$

Ответ укажите в виде последовательности цифр без пробелов и запятых в указанном порядке.

А	Б	В