

Установите соответствие между функциями и их графиками.

**Функции**

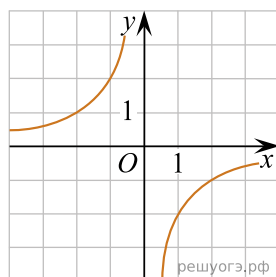
А)  $y = -\frac{2}{x}$

Б)  $y = \frac{2}{x}$

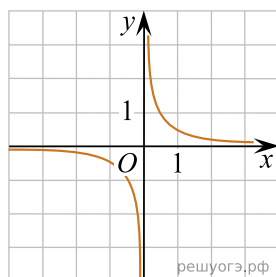
В)  $y = \frac{1}{2x}$

**Графики**

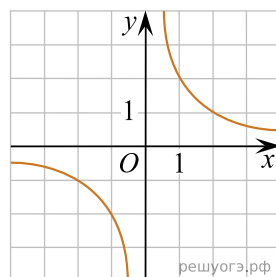
1)



2)



3)



В таблице под каждой буквой укажите соответствующий номер.

Ответ:

А	Б	В