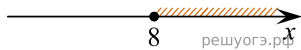


На каком рисунке изображено множество решений неравенства

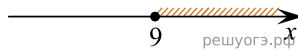
$$x^2 - 17x + 72 \geq 0?$$

В ответе укажите номер правильного варианта.


1)



2)



3)



4)

