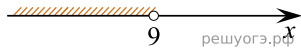


На каком рисунке изображено множество решений системы неравенств

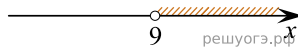
$$\begin{cases} x > 8, \\ 9 - x < 0? \end{cases}$$

В ответе укажите номер правильного варианта.

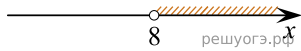
1)



2)



3)



4)

