

Установите соответствие между графиками функций и формулами, которые их задают.

**Формулы**

1)  $y = x + 3$

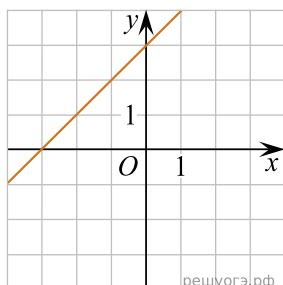
2)  $y = -3x$

3)  $y = 3$

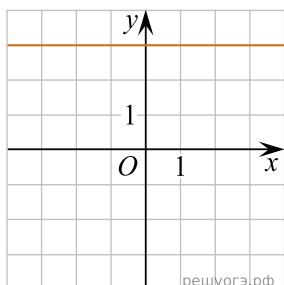
4)  $y = 3x$

**Графики**

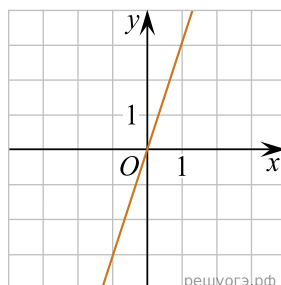
А)



Б)



В)



Запишите в ответ цифры, расположив их в порядке, соответствующем буквам:

А	Б	В