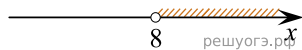
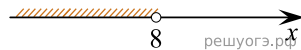


На каком рисунке изображено множество решений системы неравенств $\begin{cases} x < 9, \\ 8 - x > 0? \end{cases}$


1)



2)



3)



4)

