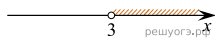


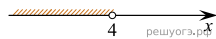
Вариант № 340884

На каком рисунке изображено множество решений системы неравенств $\begin{cases} x < 3, \\ 4 - x > 0? \end{cases}$

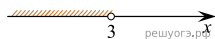
1)



2)



3)



4)

