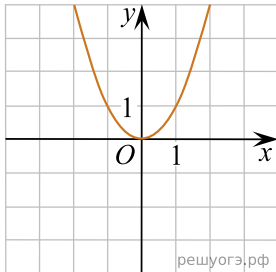


Установите соответствие между графиками функций и формулами, которые их задают.

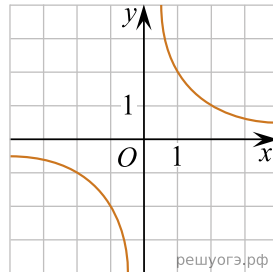
ФУНКЦИИ

- 1)  $y = x^2$     2)  $y = \frac{x}{2}$     3)  $y = \sqrt{x}$     4)  $y = \frac{2}{x}$

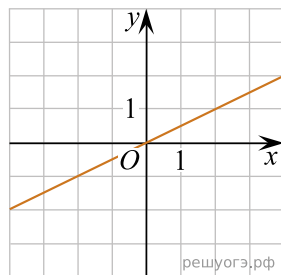
ГРАФИКИ



А)



Б)



В)

Ответ укажите в виде последовательности цифр без пробелов и запятых в указанном порядке.

А	Б	В