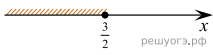


Вариант № 339292

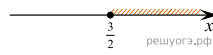
На каком рисунке изображено множество решений неравенства $2 + x \leq 5x - 8$?

В ответе укажите номер правильного варианта.

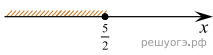
1)



2)



3)



4)

