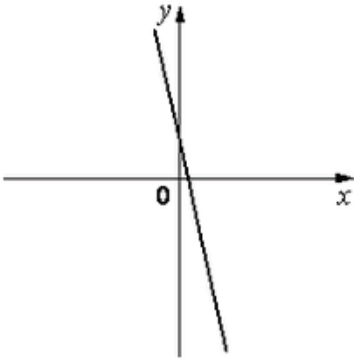


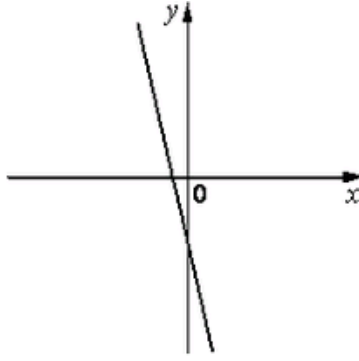
На рисунке изображены графики функций вида $y = kx + b$. Установите соответствие между знаками коэффициентов k и b и графиками функций.

Графики

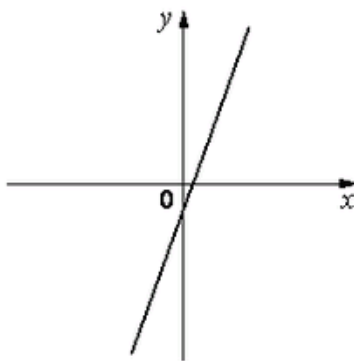
1)



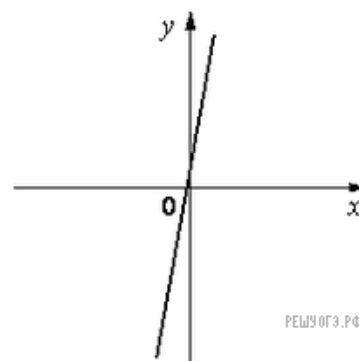
2)



3)



4)



РЕШУ ОГЭ .РФ

Коэффициенты

А) $k < 0, b < 0$

Б) $k < 0, b > 0$

В) $k > 0, b < 0$

Запишите в ответ цифры, расположив их в порядке, соответствующем буквам:

А	Б	В