

Установите соответствие между функциями и их графиками.

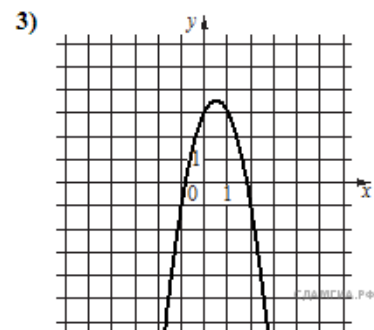
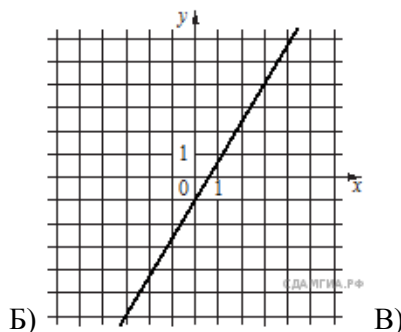
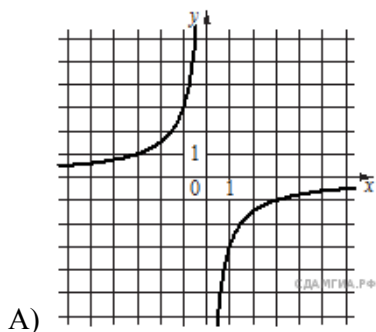
Функции

1) $y = -2x^2 + 2x + 3$

2) $y = -\frac{3}{x}$

3) $y = \frac{5}{3}x - 1$

Графики



Запишите в ответ цифры, расположив их в порядке, соответствующем буквам:

А	Б	В