
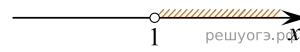


На каком из рисунков изображено решение неравенства  $x - x^2 < 0$ ?  
 В ответе укажите номер правильного варианта.

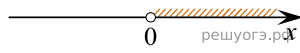
1)



2)



3)



4)



- 1) 1
- 2) 2
- 3) 3
- 4) 4