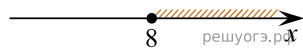



На каком из рисунков изображено решение неравенства $8x - x^2 \geq 0$?
 В ответе укажите номер правильного варианта.


1)



2)



3)



4)

