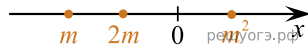


Известно, что число  $m$  отрицательное. На каком из рисунков точки с координатами  $0$ ,  $m$ ,  $2m$ ,  $m^2$  расположены на координатной прямой в правильном порядке?

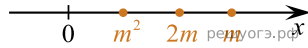
1)



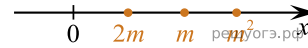
2)



3)



4)



В ответе укажите номер правильного варианта.