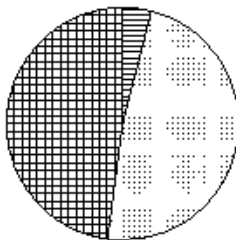
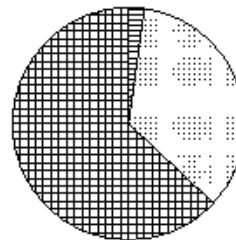


Какая из следующих круговых диаграмм показывает распределение масс элементов в молекуле сернистой кислоты, если масса водорода составляет 2,4% всей массы, серы – 32% и кислорода – 58,6%?

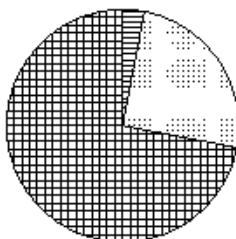
Молекулярные массы веществ



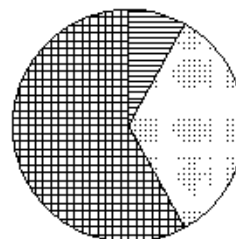
Молекулярные массы веществ



Молекулярные массы веществ



Молекулярные массы веществ



1)
2)
3)
4)