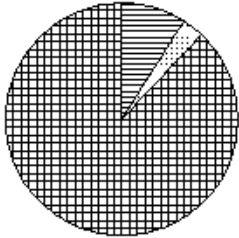
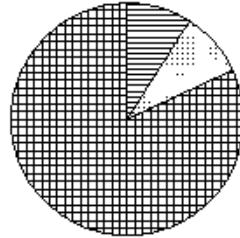


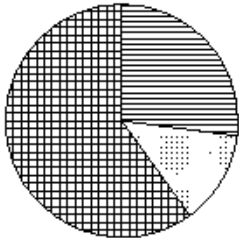
Пищевой состав картофеля



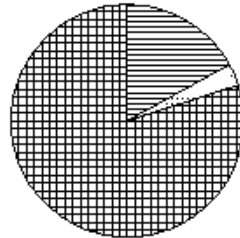
Пищевой состав картофеля



Пищевой состав картофеля



Пищевой состав картофеля



Какая из следующих круговых диаграмм показывает распределение белков, жиров и углеводов в картофеле, если белков всего 17%, жиров – 3% и углеводов – 80%?

1)
2)
3)
4)