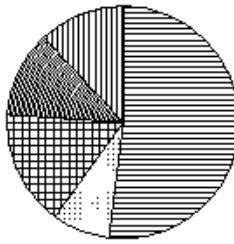
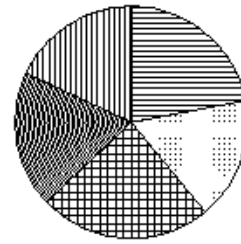


Какая из следующих круговых диаграмм показывает распределение грибов в лесу, если белых грибов всего 41%, мухоморов – 17%, лисичек – 9%, сыроежек – 21% и других грибов – 12%?

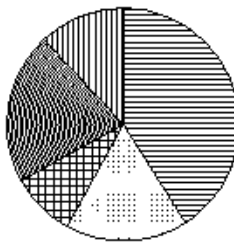
Грибы



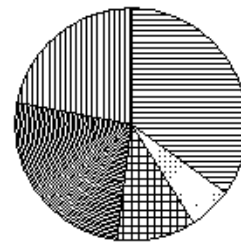
Грибы



Грибы



Грибы



1)
2)
3)
4)