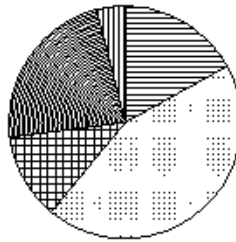
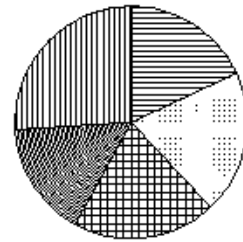


Какая из следующих круговых диаграмм показывает распределение грибов в лесу, если белых грибов всего 16%, мухоморов – 33%, лисичек – 14%, сыроежек – 26% и других грибов – 11%?

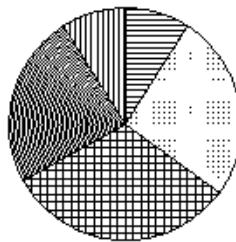
Грибы



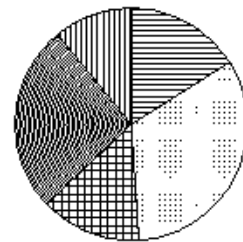
Грибы



Грибы



Грибы



1)
2)
3)
4)