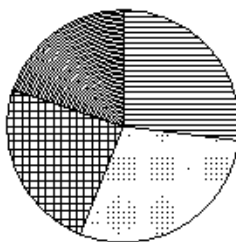
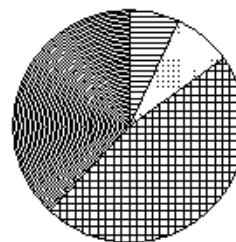


Какая из следующих круговых диаграмм показывает распределение оценок по контрольной работе по математике в 9 классе, если пятерок в классе примерно 30% всех оценок, четверок – примерно 11%, троек – примерно 37% и двоек – примерно 22%?

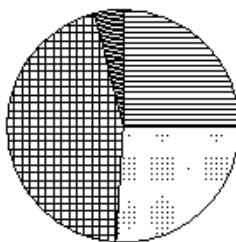
Оценки



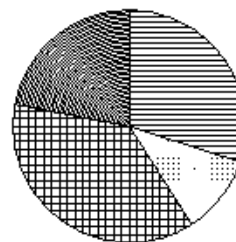
Оценки



Оценки



Оценки



1)
2)
3)
4)