

На диаграмме показаны распределение земель Уральского, Приволжского, Южного Федеральных округов и Сибири по категориям. Определите, в каком округе доля земель лесного фонда превышает 70%.



Земли лесного фонда



Земли сельскохозяйственного назначения



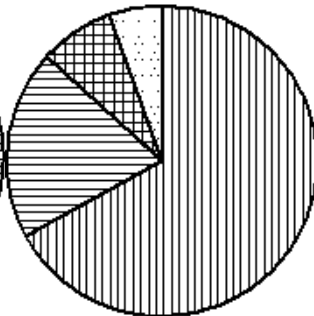
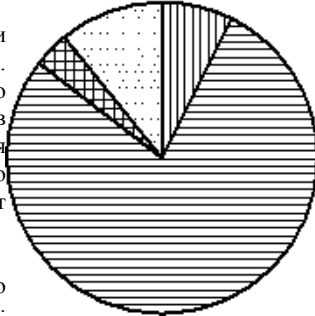
Земли запаса



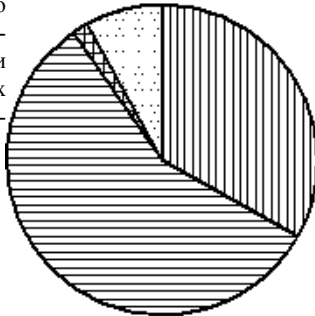
Прочие*

Южный ФО

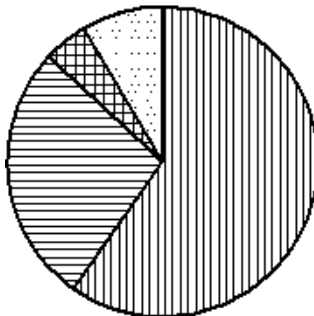
Сибирь



Приволжский ФО



Уральский ФО



Уральский ФО
Приволжский ФО
Южный ФО
Сибирь