

На диаграмме показаны религиозные составы населения Германии, США, Австрии и Великобритании. Определите по диаграмме, в какой стране доля католиков наибольшая.

Великобритания



протестанты



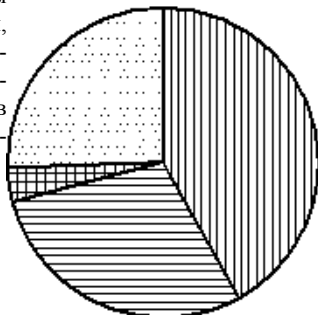
католики



мусульмане

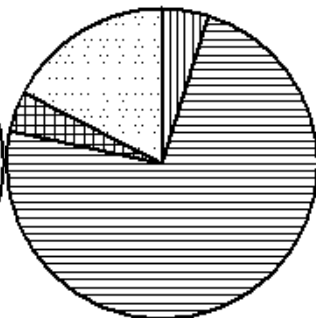
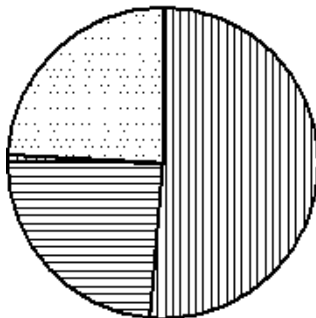


прочие

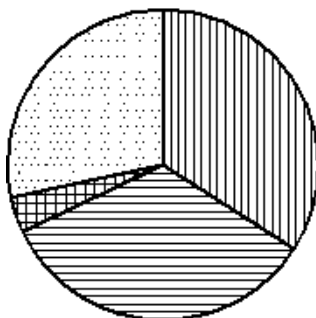


США

Австрия



Германия



Германия
США
Австрия
Великобритания