
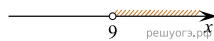


Решите систему неравенств $\begin{cases} 9+3x>0, \\ 6-3x\leq-21. \end{cases}$
 На каком рисунке изображено множество ее решений?

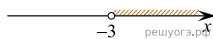
1)



2)



3)



4)

