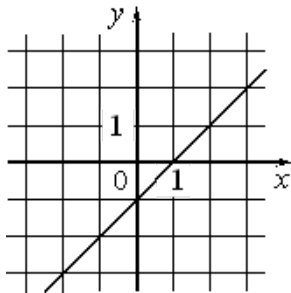
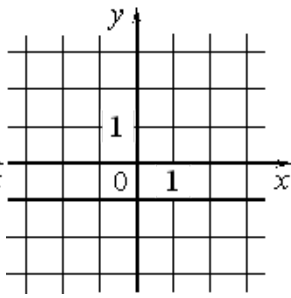
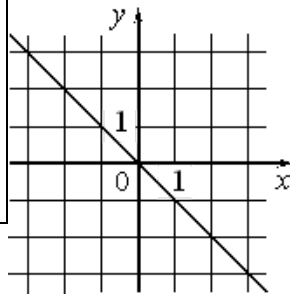


Установите соответствие между графиками функций и формулами, которые их задают. Впишите в приведенную в ответе таблицу под каждой буквой соответствующую цифру.



ГРАФИКИ ФУНКЦИЙ			
А)	Б)	В)	
ФОРМУЛЫ			
1) $y = -x$	2) $y = 1$	3) $y = x$	4) $y = x - 1$