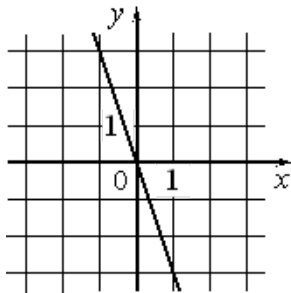
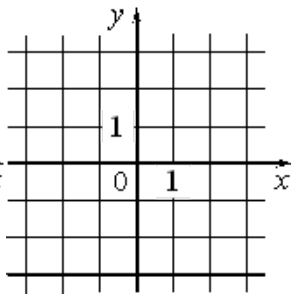
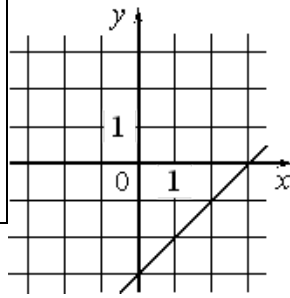


Установите соответствие между графиками функций и формулами, которые их задают. Впишите в приведенную в ответе таблицу под каждой буквой соответствующую цифру.



| ГРАФИКИ ФУНКЦИЙ | | | | | | | |
|-----------------|----------|----|-------------|----|-----------|----|----------|
| А) | | Б) | | В) | | | |
| | | | | | | | |
| ФОРМУЛЫ | | | | | | | |
| 1) | $y = -3$ | 2) | $y = x - 3$ | 3) | $y = -3x$ | 4) | $y = 3x$ |