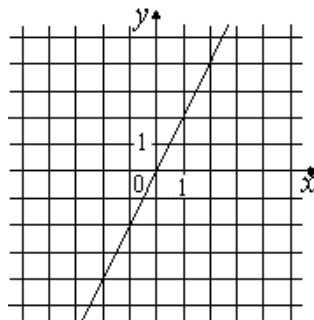
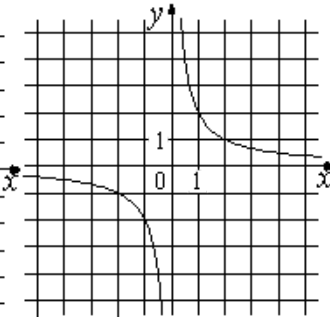
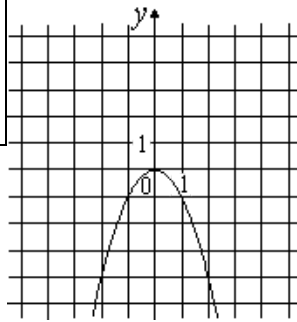


Установите соответствие между графиками функций и формулами, которые их задают.



А)		Б)		В)	
1)	$y = 2x$	2)	$y = x$	3)	$y = -x^2$
4)	$y = 2x$				