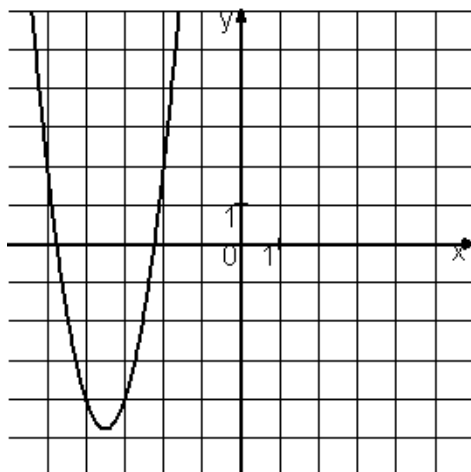
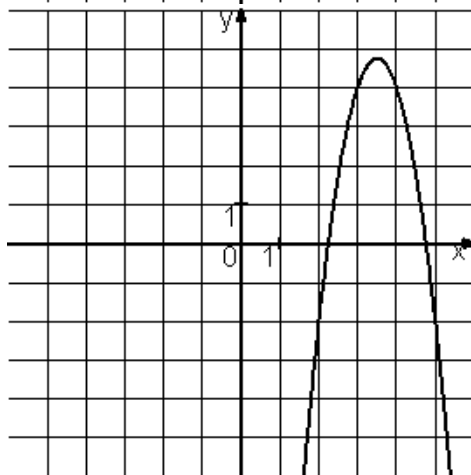
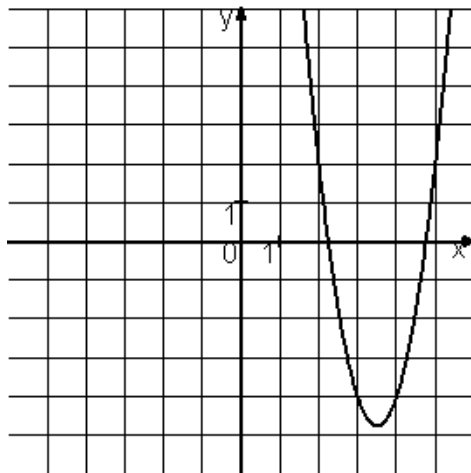
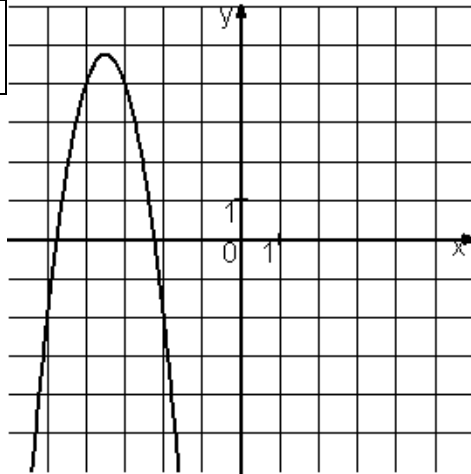


Установите соответствие между графиками функций и формулами, которые их задают.



| <b>ФУНКЦИИ</b> |                        | <b>ГРАФИКИ</b> |  |
|----------------|------------------------|----------------|--|
| <b>А)</b>      | $y = -3x^2 + 21x - 32$ | <b>1)</b>      |  |
| <b>Б)</b>      | $y = 3x^2 + 21x + 32$  | <b>2)</b>      |  |
| <b>В)</b>      | $y = 3x^2 - 21x + 32$  | <b>3)</b>      |  |
|                |                        | <b>4)</b>      |  |