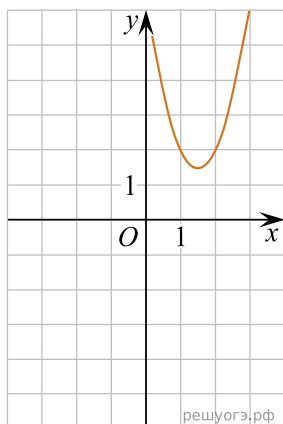
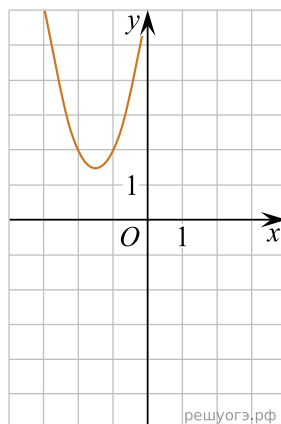


Установите соответствие между графиками функций и формулами, которые их задают.

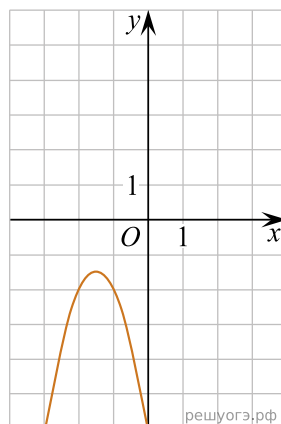
А)



Б)



В)



- 1)  $y = -2x^2 + 6x - 6$
- 2)  $y = -2x^2 - 6x - 6$
- 3)  $y = 2x^2 + 6x + 6$
- 4)  $y = 2x^2 - 6x + 6$

Ответ укажите в виде последовательности цифр без пробелов и запятых в указанном порядке.

А	Б	В