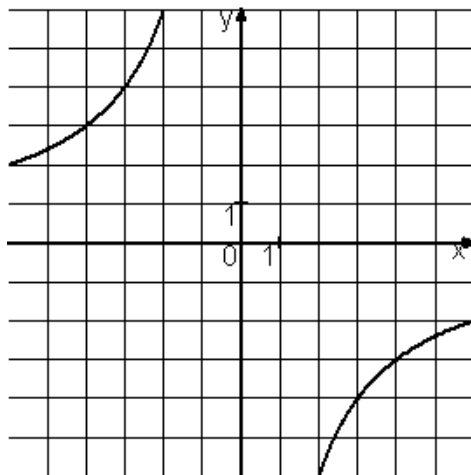
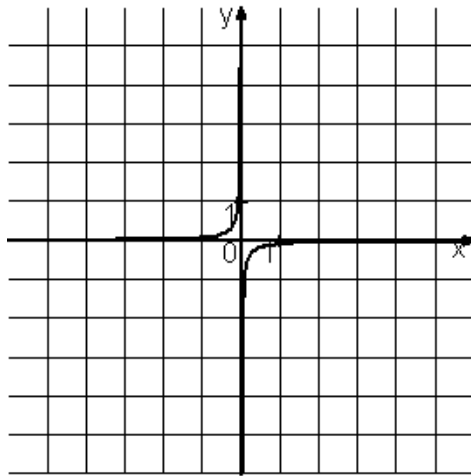
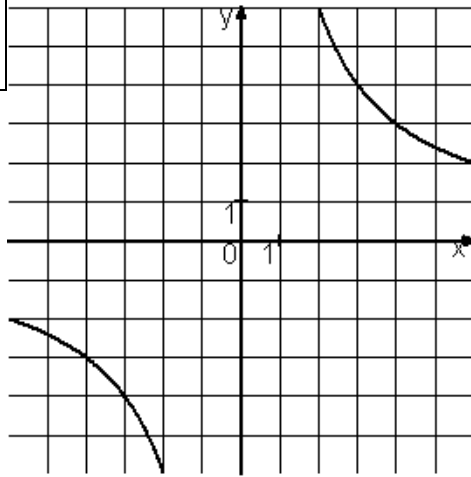


Установите соответствие между графиками функций и формулами, которые их задают.



ГРАФИКИ		ФОРМУЛЫ	
А)	<input type="checkbox"/>	1)	$y = 1/12x$
Б)	<input type="checkbox"/>	2)	$y = 12x$
В)	<input type="checkbox"/>	3)	$y = -12x$
		4)	$y = -1/12x$