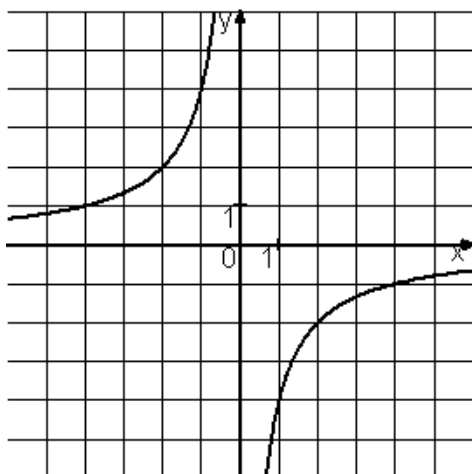
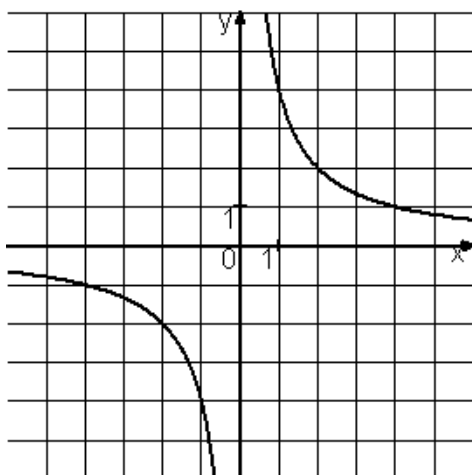
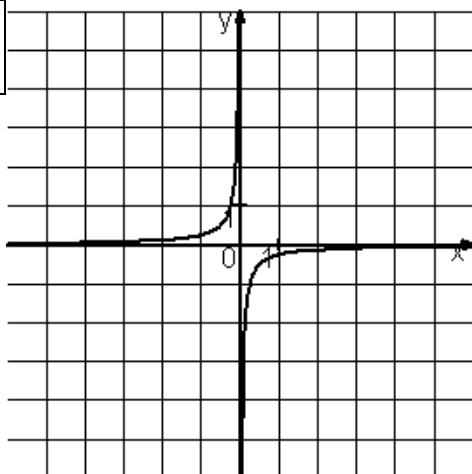


Установите соответствие между графиками функций и формулами, которые их задают.



ГРАФИКИ		ФОРМУЛЫ	
А)		1)	$y = -1/4x$
Б)		2)	$y = 4/x$
В)		3)	$y = -4/x$
		4)	$y = 1/4x$