

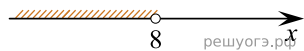
Решите систему неравенств

$$\begin{cases} -12 + 3x < 0, \\ 9 - 4x > -23. \end{cases}$$

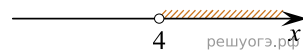
На каком рисунке изображено множество ее решений?

В ответе укажите номер правильного варианта.

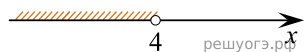
1)



2)



3)



4)

