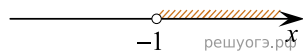


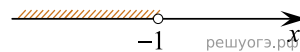
Решите систему неравенств $\begin{cases} 3+3x>0, \\ 2-3x<14. \end{cases}$

На каком рисунке изображено множество ее решений?

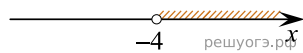
1)



2)



3)



4)

