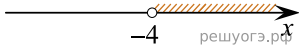


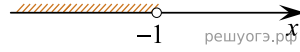
Решите систему неравенств $\{ 3+3x < 0, 2-3x > 14 \}$.

На каком рисунке изображено множество ее решений?

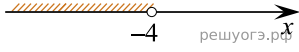
1)



2)



3)



4)

