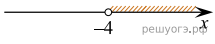


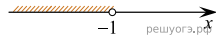
Вариант № 320010

Решите систему неравенств $\begin{cases} 3+3x < 0, \\ 2-3x > 14. \end{cases}$
На каком рисунке изображено множество ее решений?

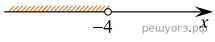
1)



2)



3)



4)

