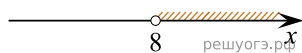
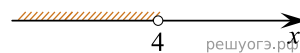


Решите систему неравенств $\begin{cases} -12+3x<0, \\ 9-4x<-23. \end{cases}$
 На каком рисунке изображено множество ее решений?


1)



2)



3)



4) система не имеет решений