
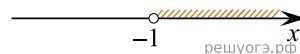


Решите систему неравенств  $\begin{cases} 3+3x>0, \\ 2-3x>14. \end{cases}$   
На каком рисунке изображено множество ее решений?

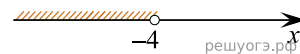
1)



2)



4)



3) система не имеет решений