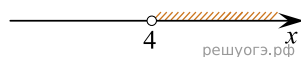


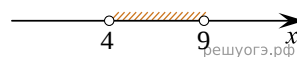
Решите систему неравенств  $\begin{cases} x < 9, \\ 4 - x < 0. \end{cases}$

На каком рисунке изображено множество ее решений?

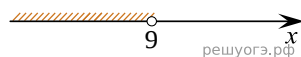
1)



2)



3)



4) система не имеет решений