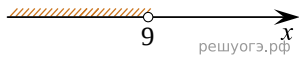


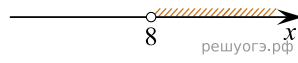
Решите систему неравенств  $\begin{cases} x < 8, \\ 9 - x > 0. \end{cases}$

На каком рисунке изображено множество ее решений?

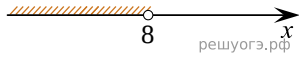
1)



2)



3)



4)

