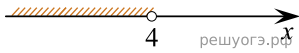


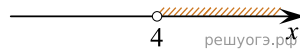
Решите систему неравенств $\begin{cases} x > 3, \\ 4 - x < 0. \end{cases}$

На каком рисунке изображено множество ее решений?

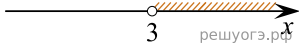
1)



2)



3)



4)

