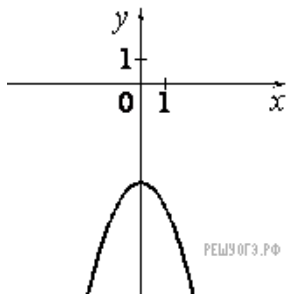
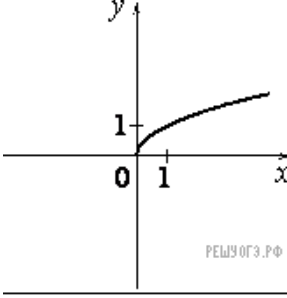
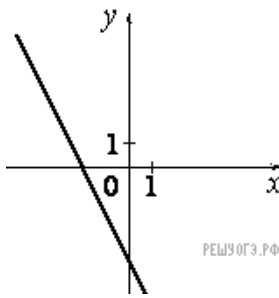


Установите соответствие между графиками функций и формулами, которые их задают.

Графики

А)	Б)	В)
		

Формулы

1) $y = -x^2 - 4$

2) $y = -2x - 4$

3) $y = \sqrt{x}$

4) $y = \frac{1}{x}$

Запишите в ответ цифры, расположив их в порядке, соответствующем буквам:

А	Б	В