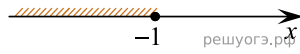



На каком рисунке изображено множество решений неравенства  $x^2 - 3x - 4 \leq 0$ ?

В ответе укажите номер правильного варианта.


1)



2)



3)



4)

