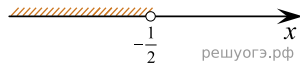
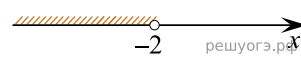


Решите неравенство $4x + 23 < 3 - 2(x - 4)$ и определите, на каком рисунке изображено множество его решений.
В ответе укажите номер правильного варианта.

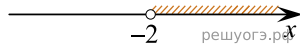
1)



2)



3)



4)

