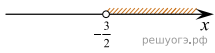


Вариант № 314580

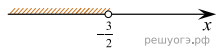
Решите неравенство $x - 1 < 3x + 2$ и определите, на каком рисунке изображено множество его решений.

В ответе укажите номер правильного варианта.

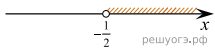
1)



2)



3)



4)

