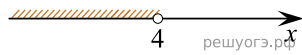
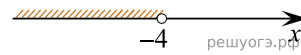


Решите неравенство $2x - 5 < 9 - 6(x - 3)$ и определите, на каком рисунке изображено множество его решений.
 В ответе укажите номер правильного варианта.

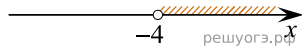
1)



2)



3)



4)

