

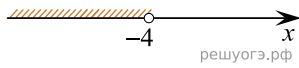
Решите неравенство

$$20 - 3(x - 5) < 19 - 7x$$

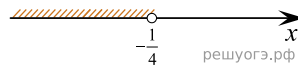
и определите, на каком рисунке изображено множество его решений.

В ответе укажите номер правильного варианта.

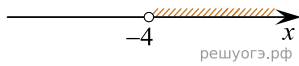
1)



2)



3)



4)

