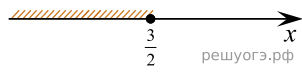
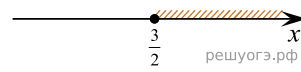


Решите неравенство $2 + x \leq 5x - 8$ и определите, на каком рисунке изображено множество его решений.
В ответе укажите номер правильного варианта.

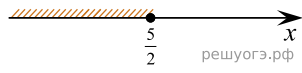
1)



2)



3)



4)

