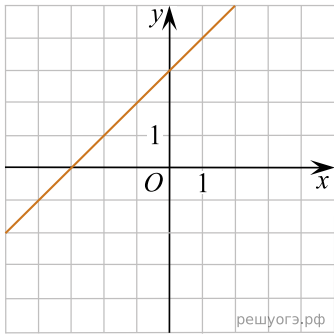
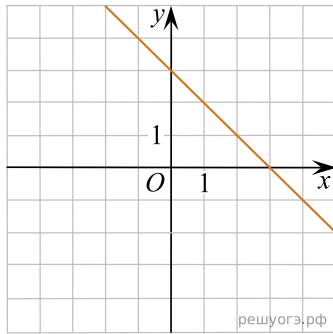


Установите соответствие между графиками функций и формулами, которые их задают.

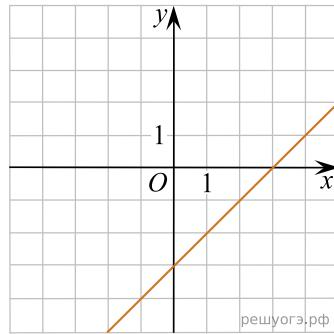
А)



Б)



В)



1) $y = x + 3$

2) $y = x - 3$

3) $y = 3 - x$

4) $y = -3 - x$

Ответ укажите в виде последовательности цифр без пробелов и запятых в указанном порядке

А	Б	В