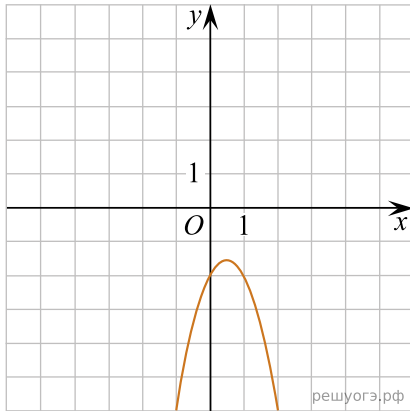


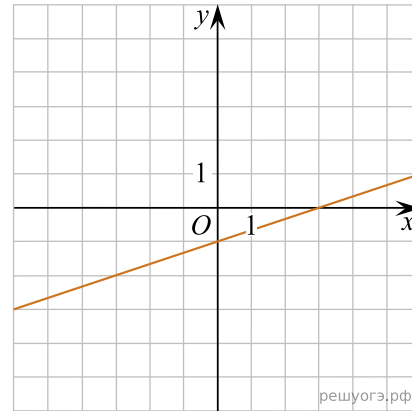
Установите соответствие между функциями и их графиками.

А	Б	В

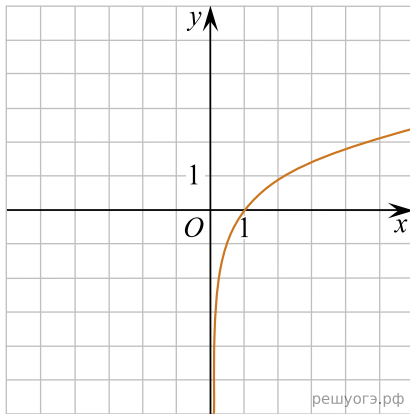
1)



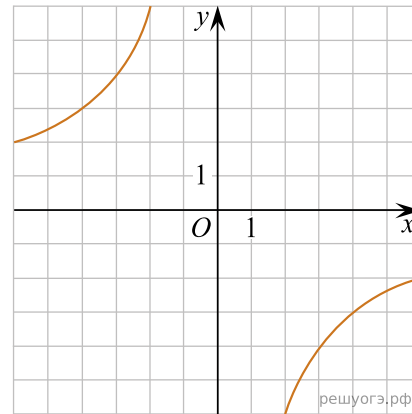
2)



3)



4)



А) $y = -2x^2 + 2x - 2$

Б) $y = -\frac{12}{x}$

В) $y = \frac{x}{3} - 1$

Ответ укажите в виде последовательности цифр без пробелов и запятых в указанном порядке